


# Oddział Międzyuczelniany PTTK w Warszawie

*Egzamin na Organizatora Turystyki - 15.05.2002 r.*



Uwagi dla zdających:

Egzamin składa się z 22 pytań pogrupowanych w 6 działów.

Punktacja dla poszczególnych pytań została przedstawiona obok.

Zaliczenie egzaminu polega na uzyskaniu ze wszystkich działów co najmniej po 61 punktów.

Uprzejmie prosimy o udzielanie odpowiedzi tylko w ramach wyznaczonych do tego celu miejsc i o pisanie w sposób czytelny.

<b>Architektura</b>		
1		50
2		20
3		30
razem		100
<b>Historia turystyki i PTTK</b>		
4		20
5		10
6		30
7		20
8		20
razem		100
<b>Pierwsza pomoc</b>		
9		16
10		36
11		48
razem		100
<b>Etnografia i budownictwo drewniane</b>		
12		16
13		24
14		24
15		10
16		26
razem		100
<b>Przyroda i ochrona przyrody</b>		
17		32
18		12
19		33
20		23
razem		100
<b>Geografia turystyczna Polski</b>		
21		44
22		56
razem		100

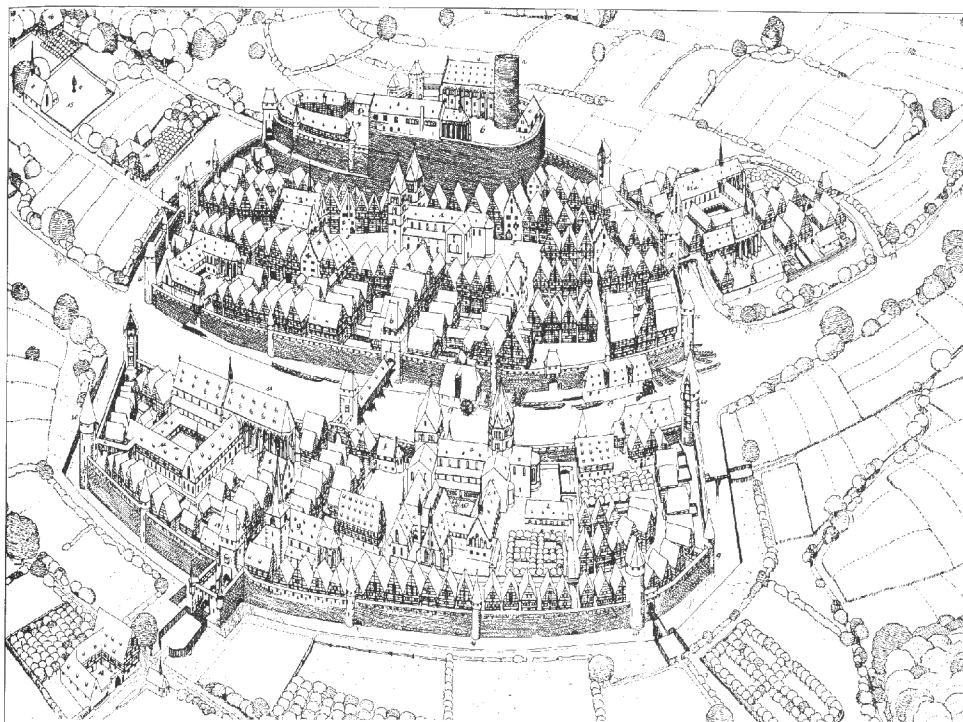
## Architektura

### Pytanie 1



Opisz w 100 słowach obiekt przedstawiony na rysunku.

Uwaga: sprawdzający będzie czytał odpowiedź tylko do setnego słowa.

**Pytanie 2**

Zidentyfikuj i nazwij 10 elementów miasta zaznaczając je także na rysunku.

1.		2.	
3.		4.	
5.		6.	
7.		8.	
9.		10.	

**Pytanie 3**


Wybierz trzy obiekty miejskie zidentyfikowane w odpowiedzi na poprzednie pytanie i dla każdego z nich podaj opis jego funkcji w systemie miejskim.

	nazwa	opis funkcji
1.		
2.		
3.		

## Historia turystyki i PTTK

### Pytanie 4

Zidentyfikuj odznaki turystyki kwalifikowanej i krajoznawcze przedstawione poniżej:

### Pytanie 5

Jakie są dwie podstawowe różnice pomiędzy uprawnieniami przodowniczymi a przewodnickimi?

1.	
2.	

### Pytanie 6

Wymień pełne nazwy sześciu kół należących do Oddziału Międzyuczelnianego PTTK w Warszawie.


### Pytanie 7

Opisz krótko, czym dla polskiej turystyki zasłużyli się:

Aleksander Janowski	
---------------------	--

Stanisław Staszic	
Edward Moskała	
Witold Henryk Paryski	
Mieczysław Orłowicz	

### Pytanie 8

Przypisz do dat w zamieszczonych w poniższej tabeli następujące wydarzenia:

1. Beata z Kościeleckich Łaska odbywa wycieczkę z Kieżmarku do Zielonego Stawu,
2. otwarcie 20 przejść turystycznych na granicy polsko–czeskiej (3 w Beskidzie Śląskim, reszta w Sudetach),
3. powstaje Górskiego Ochotniczego Pogotowia Ratunkowego,
4. powstaje Polskie Towarzystwo Turystyczno–Krajoznawcze (PTTK),
5. ks. Stanisław Staszic wchodzi na Babią Górę,
6. w Warszawie powstaje Polskie Towarzystwo Krajoznawcze,
7. w Zakopanem powstaje (Galicyjskie) Towarzystwo Tatrzańskie,
8. Walery Eliaz–Radzikowski znakuje (jednym paskiem koloru cynobrowego) pierwszy szlak turystyczny w Tatrach: przez Psią Trawkę i Pol. Waksmundzką do Morskiego Oka,
9. z inicjatywy Hugona Zapałowicza Oddział Babiogórski TT buduje schronisko na Markowych Szczawinach pod Babią Górą,
10. z inicjatywy Mariusza Zaruskiego i Mieczysława Karłowicza powstało Tatrzańskie Ochotnicze Pogotowie Ratunkowe.

<b>1565</b>	<b>1805</b>	<b>1873</b>	<b>1887</b>	<b>1906</b>
<b>1906</b>	<b>1909</b>	<b>1950</b>	<b>1952</b>	<b>1996</b>

## Pierwsza pomoc

### Pytanie 9

Podaj trzy powody, dla których zażywanie środków przeciwbólowych w trakcie marszu w górach jest niewskazane.

--

### Pytanie 10

Wymień 12 najbardziej niezbędnych Twoim zdaniem rzeczy, jakie powinny znaleźć się w apteczce 10-osobowej grupy wybierającej się na dwutygodniowy wędrowny obóz namiotowy w Beskid Niski.


### Pytanie 11

Wypełnij poniższą tabelę:

przypadłość	przeciwdziałanie	leczenie
poparzenie słoneczne skóry pleców		
rozwolnienie u $\frac{3}{4}$ członków grupy		
lekkie odmrożenie dłoni		
duże bąble na stopach		

## Etnografia i budownictwo drewniane

### Pytanie 12

Określ w jakim miesiącu przypada:

	dożynki		noc Kupały
	dzień Matki Boskiej Gromnicznej		początek redyku
	dzień Matki Bożej Zielnej		przednówek
	dzień św. Łucji		Zaduszki

### Pytanie 13

Opisz krótko dwa tradycyjne rodzaje konstrukcji ścian w domach drewnianych.

### Pytanie 14

Opisz krótko dwa tradycyjne rodzaje konstrukcji więźby dachowej\* w domach drewnianych.

### Pytanie 15

Wybierz pięć z wymienionych poniżej nazw i podaj ich krótką definicję:

\* Prosimy nie pytać komisji co to jest więźba dachowa.

babiniec, gont, ikonostas, krokiew, lamus, łątka, macewa, pazdur, sypaniec, węgiel, wyżka


### Pytanie 16

Scharakteryzuj dowolnie wybraną mniejszość narodową III Rzeczypospolitej, uwzględniając m.in. język, wyznania, rejony zamieszkania (obecnie i w przeszłości), charakterystyczne cechy kultury, zabytki itp.\*

--

\* Zastanów się dokładnie chodzi o mniejszość narodową.



## Przyroda i ochrona przyrody

### Pytanie 17

W jakich sytuacjach (prawnych) nie można przejść z grupą przez określony fragment lasu:


### Pytanie 18

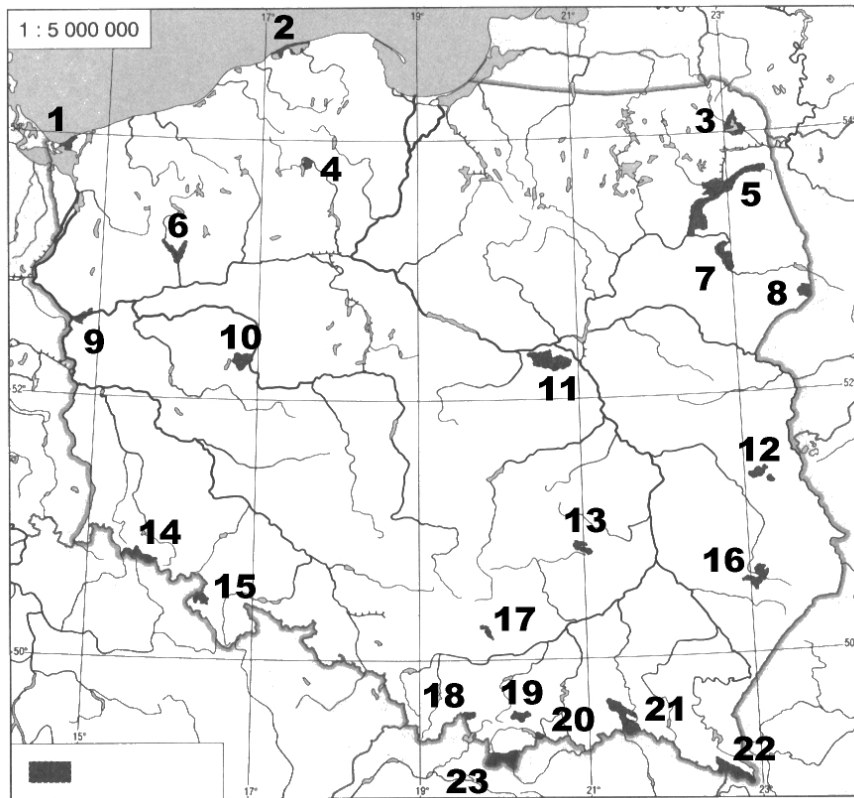
Wymień cztery rezerваты przyrody na terenie miasta Warszawa.


### Pytanie 19

Opisz dowolny typ zbiorowiska leśnego występującego w Polsce wraz z wymienieniem charakterystycznych dla nich gatunków roślin.

--

## Pytanie 20



Podaj nazwy zaznaczonych na mapie parków narodowych:

1.		2.	
3.		4.	
5.		6.	
7.		8.	
9.		10.	
11.		12.	
13.		14.	
15.		16.	
17.		18.	
19.		20.	
21.		22.	
23.			

## Geografia turystyczna Polski

### Pytanie 21

Zaznacz na poniższej mapie Polski położenie piętnastu wybranych z poniższej listy miejsc:



- |                         |                          |
|-------------------------|--------------------------|
| 1. Biecz                | 2. Kłodzko               |
| 3. Cieszyn              | 4. Kołobrzeg             |
| 5. Drohiczyn            | 6. Kopiec Tatarski       |
| 7. Gniezno              | 8. Lesko                 |
| 9. Golub-Dobrzyń        | 10. Łowicz               |
| 11. Góra Ślęza          | 12. Pelplin              |
| 13. Góra Św. Anny       | 14. Pułtusk              |
| 15. Jezioro Malta       | 16. Twierdza Wisłoujście |
| 17. Kalwaria Pałacowska | 18. Wadowice             |
| 19. Kętrzyn             | 20. Wąchock              |

**Pytanie 22**

Uzupełnij podany poniżej schemat podziału Karpat polskich wg prof. Kondrackiego następującymi nazwami:

Beskid Makowski, Beskid Sądecki, Beskid Śląski, Beskid Wyspowy, Beskid Żywiecki, Bieszczady Zachodnie, Gorce, Małe Pieniny, Pieniny, Pogórze Dynowskie, Pogórze Strzyżowskie, Pogórze Śląskie, Tatry Wschodnie, Tatry Zachodnie,

Babia Góra (1725), Chełm (534), Lubomir (912), Mogielica (1170), Radziejowa (1262), Rysy (2499), Skrzyczne (1257), Starorobociański Wierch (2176), Sucha Góra (592), Tarnica (1346), Trzy Korony (982), Turbacz (1311), Wielki Dział (372), Wysoka (1050).

<b>Karpaty</b>	
<b>Karpaty Zachodnie</b>	
<b>Zewnętrzne Karpaty Zachodnie</b>	
<b>Pogórze Zachodniobeskidzkie</b>	
	-
<b>Beskidy Zachodnie</b>	
	-
	-
	-
	-
	-
	-
<b>Pogórze Środkowobeskidzkie</b>	
	-
	-
<b>Centralne Karpaty Zachodnie</b>	
<b>Obniżenie Orawsko-Podhalańskie</b>	
<b>Pieniny</b>	-
	-
<b>Łańcuch Tatrzański</b>	
	-
	-
<b>Karpaty Wschodnie</b>	
<b>Beskidy Wschodnie</b>	
<b>Beskidy Lesiste</b>	
	-